

# Racine d'un polynôme du second degré

## Discriminant et racine

**Exercice 1** Pour chaque trinôme ci-dessous, calculer le discriminant  $\Delta$

1.  $x^2 + 4x + 5$

2.  $2x^2 - x - 6$

3.  $-2x^2 - 4x - 7$

4.  $-x^2 + 2x + 3$

**Exercice 2** Déterminer le nombre de solution réelles de chaque équation ci-dessous.

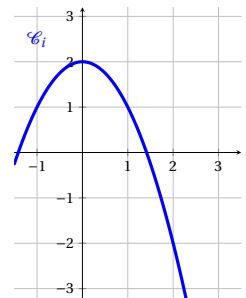
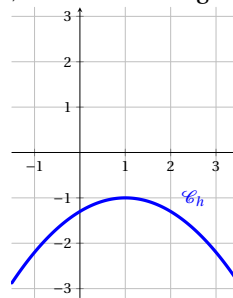
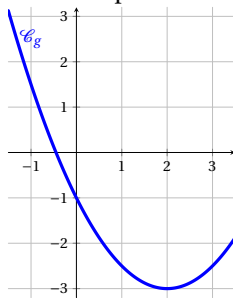
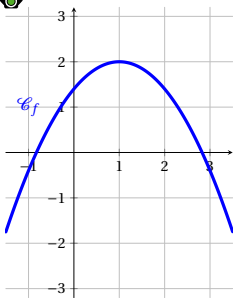
1.  $x^2 + 3x + 2 = 0$

2.  $2x^2 - 5x + 7 = 0$

3.  $-\frac{1}{3}x^2 + 2x - 3 = 0$

4.  $2x^2 + 7x + 11 = 0$

**Exercice 3** Pour chaque fonction représentée ci dessous, déterminer le signe de  $\Delta$ .



**Exercice 4** Résoudre dans  $\mathbb{R}$  les équations suivantes

1.  $3x^2 - 9x - 12 = 0$

2.  $2x^2 + 5x + 7 = 0$

3.  $2x^2 - 2x + \frac{1}{2} = 0$

**Exercice 5** Déterminer, si elles existent, les racines des trinômes suivants :

1.  $f(x) = -2x^2 + 3x - 4$

2.  $g(x) = \frac{1}{2}x^2 - 4x + 8$

3.  $h(x) = -x^2 - 2x + 35$

**Exercice 6** Déterminer deux nombres entiers consécutifs dont la somme des carrés est égale à 4141

**Exercice 7** Résoudre les équations suivantes :

1.  $\frac{5x^2 - 12,5x - 7,5}{3 - x} = 0$

2.  $\frac{x + 20}{10} = \frac{10}{x}$

**Exercice 8** On considère le programme de calcul suivant :

- Si on choisit le nombre 5, quel nombre obtient-on?
- Pour quel nombre de départ obtient on 91?

```
1 a=eval(input(("Choisir un nombre")))
2 b=a**2
3 c=b+2*a
4 d=c-8
5 print("Le resultat est ",d)
```

**Exercice 9** Trouver deux entiers dont la somme est égale à 40 et le produit à 375

**Exercice 10** Soit ABCD un carré de coté  $x$  cm et BEC un triangle isocèle en E de hauteur 2 cm.  
On note  $A(x)$  l'aire du polygone ABECD en  $cm^2$ .

- Faire un dessin représentant la situation.
- Quelles valeurs peut prendre  $x$ ?
- Déterminer l'expression de  $A(x)$  en fonction de  $x$ .
- Quelle est la valeur de  $A(x)$  si  $x$  est égal à 5?
- Pour quelle(s) valeur(s) de  $x$  a-t-on  $A(x) = 24,75$ ?

**Exercice 11** On considère l'équation  $(m+8)x^2 + mx + 1 = 0$ . Pour quelles valeurs de  $m$  cette équation admet-elle une unique solution?

**Exercice 12**

- Soit  $f$  la fonction définie sur  $\mathbb{R}$  par  $f(x) = x^3 - 2x^2 - 5x + 6$ . On veut résoudre l'équation  $f(x) = 0$ .
  - Vérifier que 1 est solution de l'équation  $f(x) = 0$ .
  - Montrer que l'on peut écrire  $f(x)$  sous la forme  $(x - 1)(ax^2 + bx + c)$  en développant et en identifiant les coefficients. On donnera les valeurs de  $a$ ,  $b$ , et  $c$ .
  - Résoudre l'équation  $ax^2 + bx + c = 0$ .
  - En déduire toutes les solutions de  $f(x) = 0$ , et la forme factorisée de  $f$ .
- On souhaite maintenant résoudre l'équation  $2x^3 - 20x^2 - 618x + 1980 = 0$ .
  - Vérifier que 3 est solution, puis écrire le premier terme de l'équation sous la forme  $(x - 3) \times g(x)$ , avec  $g(x)$  un polynôme de degré 2.
  - En déduire toutes les solutions de l'équation.

**Propriétés des racines**

**Exercice 13** Soit  $f$  la fonction définie sur  $\mathbb{R}$  par  $f(x) = 2x^2 - 5x + 1$ .

- Calculer le discriminant  $\Delta$ .
- Vérifier que  $\Delta > 0$ , et en déduire les nombre de racines de  $f$ .
- Sans calculer les racines, déterminer leur somme et leur produit.



**Exercice 14** Soit  $f$  la fonction définie sur  $\mathbb{R}$  par  $f(x) = 5x^2 - 4x - 1$ .

- Combien de racines  $f$  admet-elle?
- Vérifier que  $f(1) = 0$ .
- En utilisant la somme ou le produit des racines, déterminer toutes les solutions de l'équation  $f(x) = 0$ .

**Résolution d'inéquations et signes**

**Exercice 15** Dresser le tableau de signes de chaque fonction définie ci-dessous.

- $f(x) = 2x^2 - 4x - 16$ .
- $g(x) = 9x^2 + 24x + 16$ .
- $h(x) = 2x^2 - 5x + 6$ .



**Exercice 16** Résoudre dans  $\mathbb{R}$  les inéquations suivantes.

- $5x^2 - 50,5x + 5 < 0$
- $x^2 + x + 1 > 0$
- $3x^2 - 4x + \frac{4}{3} \leq 0$
- $-2x^2 + 3x - 6 < 0$

**Problèmes**

**Exercice 17** Une entreprise produit entre 0 et 50 balançoire par jour.

Le cout de fabrication de  $x$  balançoires, en euros, est donné par la fonction suivante :  $f(x) = x^2 + 230x + 325$   
Chaque balançoire est vendue 300€, et toute la production est vendue.

- Exprimer le bénéfice  $B(x)$  réalisé par l'entreprise en fonction de  $x$ .
- Étudier le variations de la fonction  $B$ .
- En déduire le bénéfice maximal réalisé par l'entreprise.
- Combien de balançoire l'entreprise doit-elle produire et vendre pour être rentable?



**Exercice 18** Soit  $f$  la fonction définie sur  $\mathbb{R}$  par  $f(x) = x^2 - 6x - 27$

- Déterminer la forme canonique de  $f$ , en utilisant les identités remarquables.
- Déterminer la forme factorisée de  $f$ , en utilisant les identités remarquables.
- En utilisant la forme adaptée, résoudre :
  - $f(x) = 0$
  - $f(x) = -27$
  - $f(x) = -36$
- Soit  $g$  le fonction définie sur  $\mathbb{R}$  par  $g(x) = 2x^2 - \frac{3}{2}x - \frac{1}{2}$ .
  - Vérifier que 1 est racine de  $g$ .
  - En utilisant la somme et le produit des racines, déterminer la valeur de l'autre racine de  $g$ .
- Résoudre  $f(x) < g(x)$